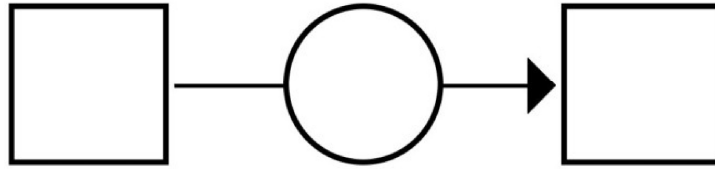


Darine achète des jeux vidéos dans une brocante.

Elle en avait 18 ; après ses achats, elle en possède 25.

Combien de jeux a-t-elle achetés ?

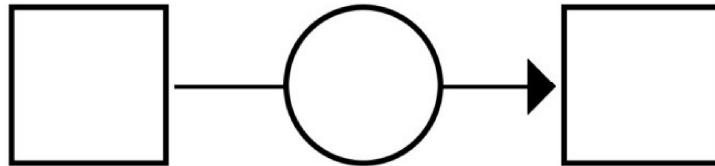


Un magasin de jeux vide ses stocks.

Sur les 258 jeux qu'ils mettaient en vente,

il ne leur en reste que 49.

Combien ont-ils vendu de jeux ?

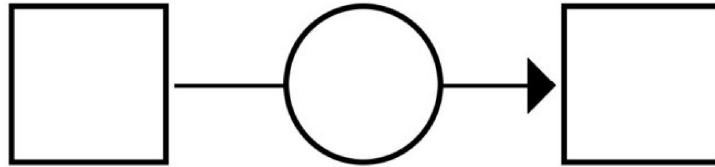


Un facteur doit distribuer son courrier auprès de plusieurs foyers.

En milieu de matinée, il l'avait déjà fait pour 315 foyers.

À midi, il en était à 522.

Combien de courriers a-t-il distribués entre-temps ?



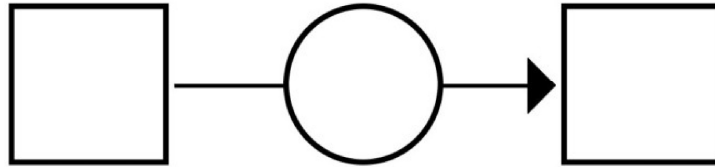
Un livreur doit livrer des colis auprès de 95 magasins.

À midi, il avait livré 58 colis.

Le soir, il avait livré 136 colis..



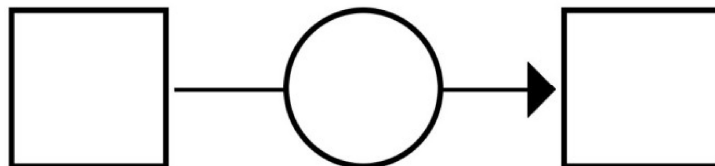
Combien de colis a-t-il livrés dans l'après-midi ?



Aujourd'hui, la France compte 95 départements.

Mais sous la Révolution, elle en comptait seulement 83.

Combien de départements la France a-t-elle gagnés ?



En France, 350 000 personnes de religion juive vivaient en France avant 1940.

En 1945, ils ne sont plus que 260 000 survivants.



Combien de Juifs ont-ils été tués en France durant cette guerre ?

